
























ÜBUNGSFRAGEN VOLKSWIRTSCHAFTLEHRE

Vorbemerkung: Massnahme = Einsatz eines wirtschaftspolitischen Instrumentes. – Eine Massnahme ist *marktkonform*, wenn sie – ① den Preismechanismus als Koordinator  dezentraler Entscheidungen nicht aufhebt, – ② den Wettbewerb  nicht hindert und – ③ den Leistungsantrieb  sowie die Risikobereitschaft der Wirtschaftssubjekte nicht drosselt.

(1) Di unter dem  Gesichtspunkt der  Umweltschonung bestmögliche  Fabrikation (einschliesslich der Wiederverwertung von verbrauchten bzw. abgenutzten  Endprodukten) im Konsumgüter-Bereich setzt sich auf dem  Markt nur dann durch, wenn mittels  rechtlicher Vorschriften die  geradlinige Beziehung (Produzent–Handel–Endverbraucher–Müll) durch eine  ringförmige (Produzent–Handel–Endverbraucher–Produzent) erzwungen wird. – Wieso?

(2) Der  Konsumterror kennt allmählich kein  Halt mehr! Stapelweise  kommen mit viel  Reklameaufwand ständig neue Produkte auf den  Markt,  verwirren die Konsumenten und führe diese in die Orientierungslosigkeit. – Beurteilen Sie diese Aussage.











(3) Die Urbanisierung (Verstädterung = der Verlauf  anschwellender  Bevölkerungsverdichtung in den städtischen Gebieten bei entsprechendem  Rückgang der Bewohner in  ländlichen Regionen) in Entwicklungsländern kann nur  aufgehalten werden, wenn  Elektrizität zu den Bewohnern auf dem flachen Land kommt. – Begründen Sie diesen Lehrsatz der Entwicklungspolitik.


(4) Es ist eine ☹️☹️☹️ Tragödie! Die von *Reinhard Mannesmann* (1856 bis 1922) gegründete 🏭 und zur 🌐 Weltfirma 🏢 emporgebrachte deutsche 😊! Mannesmann AG 🏭 in Düsseldorf wurde 1999 von 🕷️ spinnefeindlichen Kräften 📧 aus dem fernen England ✂️🔪 angegriffen! – Zwar leistete der Vorstandsvorsitzende ✈️ und grosse $\frac{1}{n}$ Teile der Belegschaft 🏢 tapferen Widerstand. Eine eindrucksvolle Zahl von 🏢🏢 Parteifunktionären und eine Gruppe engagierter 🗣️🗣️ "Kulturschaffender" ✓ unterstützen ihn dabei. Bundeskanzler Gerhard Schröder nannte den vorgesehenen Besitzwechsel als 📧 nicht mit der 😊! deutschen marktwirtschaftlichen Kultur vereinbar. – Aber 📧→📧 am Ende 🗣️ stimmten die \$\$\$ schnöden 🗣️🗣️ Aktionäre der Übernahme durch die 📧 Vodafone (gar noch mit grosser >90% Mehrheit) zu. – ① Beurteilen Sie dieses Klagelied. – ② Hat(te) dieses Spektakel Auswirkungen auf den Kurs 📉 des EUR?































(5) Durch das ganze 3. Jahrhundert v. Chr. hindurch wurde in Sparta 🌳🌿🌿🌿 Ackerland in Weiden 🐎🐎🐎 umgewandelt, weil 📜📜 Textilien und Schuhe sehr 🗣️🎵 günstig➔ exportiert 🚢 werden konnten. Durch die 😊😊😊 Erfolge bei der Zucht der 🐌 Purpurschnecke (Purpur = lilaroter Farbstoff) gelangte das Rotfärben von Stoffen und Leder zur Blüte 🌸; rotgefärbtes lakonisches (Lakonien= Sparta und das Umland) Schuhwerk galt weithin 🌐 als das beste, selbst in Ägypten. Die Vorteile und Nachteile dieser Verlagerung der landwirtschaftlichen Produktion wurde im 🏛️ Rat der Geronten viel 🗣️🗣️ diskutiert. – Nennen Sie einige wahrscheinliche Argumente.



















(6) Voraussetzung wirtschaftlicher *Gerechtigkeit* 😊👤😊 ist immer wirtschaftliche *Freiheit* 😊△😊😊 (Kontaktfreiheit, \$\$\$ Kontraktfreiheit) und 🔄 Wettbewerb. – Beurteilen Sie diese Aussage.

(7) Nach zehn ✂️ Kriegsjahren ("Archidamischer Krieg", benannt nach dem spartanischen 👑 König *Archidamus II*, im Krieg 🗣️ Befehlshaber gegen Athen) gelangten mehrere 📄 vertrauliche Gutachten im Jahre 421 v. Chr. (🕊️ Friede von Nikias: Wiederherstellung des Zustandes vor Kriegsausbruch) übereinstimmend 📧 zu dem Schluss, dass der Peloponesische Krieg (431–404 v. Chr. zwischen Sparta und Athen; er ☹️➔ endete mit der 🗣️ Kapitulation Athens) für Athen 📧...📧 kurzfristig nicht zu gewinnen sei. Die 🗣️🗣️🗣️ Volkswirte empfahlen daher dringend, in jedem Haushalt 🗣️ einen wehrfähigen Mann zu belassen. In Sparta wurde demgegenüber jeder ♂ (Halb)Erwachsene in die ☹️ Armee gezwungen. – Mit welchen Gründen ✂️🐎🌿🗣️➔ 🗣️🗣️🗣️ dürften die Volkswirte der Staatsführung in Athen diese Empfehlung untermauert haben?

(8) Im Jahr 1397 verabschiedete der  Rat von Köln am Rhein (1288 bis 1794 reichsunmittelbare, das heisst: direkt dem  Kaiser in Wien unterstehende und allein ihm zu Diensten und  Abgaben verpflichtete Stadt; danach in die   grande nation à la tête de la civilisation eingegliedert, 1815   borusiert) eine  Arbeitsordnung. Die Hutmacher durften danach innert der Stadtmauern von 4 Uhr bis 22 Uhr arbeiten, die Weber von 5 Uhr bis 21 Uhr und die Schmiede nur von  8 Uhr bis  17 Uhr. – Beurteilen Sie diese Vorschrift.

(9) Es ist ein Irrtum, dass mit $+\Delta L$ steigendem Lohnsatz auch die ΣL Lohnsumme und damit die  Kaufkraft steige. Wenn bei 15 EUR Stundenlohn 100 Mitarbeiter, bei 16 EUR aber nur noch 90 Mitarbeiter beschäftigt werden, dann ist die Kaufkraft nicht $+++$ höher, sondern $---$ niedriger geworden. – Beurteilen sie diese Feststellung.

(10) Unbestritten ist , dass in erster Linie die  Besserverdienenden    Zugang  zur modernen Kommunikations-Technologie besitzen. Daher ist es im Interesse der  sozialen Gerechtigkeit   dringend vonnöten   , anvorderst – **1** für jeden Rechner  beförderlichst eine monatliche Computer-Steuer  und – **2** für jedes  Mobiltelefon eine  Handy-Steuer von jeweils 1 EUR einzuführen. – **3** Hiernächst bedarf es endlich  einer  Internet-Steuer ( 1 EUR pro Monat für jeden Anschluss), – **4** einer  E-Mail-Steuer ( zunächst 0,5 Cent für jede gesendete und für jede empfangene E-Mail) sowie – **5** einer  Facs-Steuer ( 1 Cent für jedes gesendete und empfangene  Facs). Die Hersteller der Geräte  sowie die Programmanbieter und Provider müssen sicherstellen, dass die löbliche  Steuerbehörde einen genauen Einblick   in die jeweiligen Steuertatbestände  erhält. — Die Einnahmen aus diesen fünf Steuern sollten zweckgebunden werden zur  Finanzierung von  Weltreisen der Studierenden während der Semesterferien. – Beurteilen Sie diese Forderung.

(11) Ein nach vernünftigen ökonomischen Überlegungen  handelndes Kartell  ist bestrebt, die Gewinne  mässig zu halten. Sonst nämlich wird potentielle  Konkurrenz    geweckt bzw. Substitutions-Konkurrenz angelockt   !. Dadurch entstehen Kosten für die Bekämpfung  oder Aufnahme    neu entstehender Unternehmungen. Kluge Kartellpolitik führt damit zu niedrigen Preisen    , was vom volkswirtschaftlichen Gesichtspunkt das Wünschenswerte   ist. – Beurteilen Sie diese Gedankenfolge.

(12) Der zeitlich nahe ⌚...⌚ beieinander liegende Zusammenbruch 📉 mehrerer Banken 📉 der letzten 📅→📅 Zeit (ob in Südamerika, Japan 🇯🇵 oder gar in den USA) ist allemal ein Zeichen 🙌 dafür, dass makroökonomische Verwerfungen 📉 stattgefunden, aufgrund derer \$\$\$ Kredite an die betroffenen Branchen notleidend 😞 wurden. — Entgegenstehende ⬅ Begründungen, wie – ① fahrlässige § 276 BGB Kreditprüfung, – ② Ansteckung (Kontagion [contagion]: eine Bank gewährt ✓ Kredite, weil ehevor auch wichtige ↻ Konkurrenzbanken dem Kunden allschon Geld liehen) oder – ③ Moral Hazard (= die Tatsache nachlassender <<< Sorgfalt 👁 sobald man erwartet 😊, dass ein Dritter [hier beispielsweise: der 🏛 Staat, die Zentralbank 🏦, der Internationale Währungsfonds] für allfällige 😞 Verluste einsteht; der Begriff wird auch so im Deutschen verwendet, manchmal findet man ihn mit "rücksichtslose Unbekümmertheit" übersetzt) sind fachfremdes 🗣 Gerede. – Beurteilen Sie diese Aussage.

(13) Im Jahr 2003 🍷 trank jeder 🧑🧑🧑 Deutsche im Durchschnitt 10,5 Liter reinen Alkohol $\text{CH}_3\text{CH}_2\text{OH}$ (im Prokopf-Verbrauch liegt Deutschland an vierter Stelle in Gesamteuropa; an der Spitze stand Rumänien mit 11,7 Liter, am Ende Norwegen mit 4,3 Liter). Dies führte zu – ① 42 000 📄 Todesfällen, – ② 850 000 (kein Schreibfehler!) 🚑 Arbeitsunfähigkeits-Fällen, – ③ 41 000 ♿ Rehabilitations-Massnahmen, – ④ 570 000 🏥 Krankenhaus-Aufenthalten, – ⑤ 96 000 🩹 Körperverletzungen unter Alkoholeinfluss, – ⑥ 6 000 (angezeigten) Fällen von 🗡 Vergewaltigung und sexueller Nötigung unter Alkoholeinfluss sowie – ⑦ 800 ☠ Totschlagsdelikten unter Alkoholeinfluss. Nach vorsichtigen Berechnungen entstanden der Volkswirtschaft in diesem Jahr knapp über 20 Milliarden EUR Schäden. – Welche Massnahmen wären hier angezeigt?

(14) Als 📧 Papst Gregor XIII. den neuen, verbesserten 📅 Kalender 1582 in Kraft setzte, 📧 sträubten sich manche heftig dagegen. Den einen passte nicht, dass auf den 4. Oktober 1582 unmittelbar der 15. Oktober 1582 folgen sollte. Den anderen gefiel nicht, dass ausgerechnet der 🏛 Papst diese neue Datierung einführt. So blieben viele beim alten julianischen Kalender. Im protestantischen Deutschland und der Schweiz wurde der gregorianische Kalender erst ab 1700, in England 1752 und in Russland beginnend ab 1917 eingeführt. – Welche ökonomischen Auswirkungen hatte die unterschiedliche Zeiterfassung ?

(15) Napoléon Bonaparte verfügte 📄 von Berlin 📉 aus am 21. November 1806 die Kontinentalsperre 🚫. Kein Schiff 🚢 durfte !🚫 England anlaufen, kein englisches Schiff 🚢 in See stechen. – Beurteilen Sie die Auswirkungen.

(16) Die Wohlstands-Bürger 🏠🏠🏠 befriedigen laufend 📁...🕒...📁 falsche Bedürfnisse 🍷🍷🍷 und machen sich deshalb krank 🏠🏠🏠. Aus diesem Grunde muss eine sozialistische 🏠🏠 Planbehörde (so wie in der 😊😊😊 Deutschen Demokratischen Republik, dem ersten volkssozialistischen ★ Staat auf deutschem Boden) die 🏠 Produktion und Verteilung↔ der Güter regeln. Die ökonomische Planung gilt es auch gegen den Widerstand von Meckerern 🗣️ und Diversanten 🗣️ durchzusetzen \$\$\$\$. Ihnen muss die fortschrittliche 🏠🏠 Gesellschaft in 🏠 Besserungslagern 🏠 eine Erziehung zum wahren sozialistischen Menschen 😊 ermöglichen. — Soweit kapitalistische Staaten 😞 bereit sind, diese volksschädigende Individuen 🏠🏠🏠 gegen Devisen \$\$\$ freizukaufen, mögen sie mit ihrem Handgepäck bis 20 kg 🏠 ausreisen; allfälliger Besitz 🏠 verfällt der 🌟 lichtfreundlichen 👍 sozialistischen Zukunfts-Gesellschaft 😊 und wird unter ihren 🏠 engagierten 🏠🏠 Amtswaltern gerecht ↔ verteilt. – Beurteilen Sie diese Vorschläge.

(17) Bei Naturvölkern ist die Gewohnheit der *Vorauszahlung* (bis in 21st century unsere Tage!) weit verbreitet. Der +🏠 Medizinmann 🏠 rührt keine 🏠 Hand, um dem akut Kranken 🏠 zu helfen 😞, ehe er nicht von den Angehörigen 🏠🏠🏠 sein Honorar \$\$\$ erhalten und ausdrücklich seine 😊 Zufriedenheit ✓ kundgetan hat. – Beurteilen Sie diese Haltung.

(18) In der Zahlungsbilanz eines Staates 📄 erscheint *nicht* der Verlust -\$\$\$ durch ← Emigration hochbegabter Bürger 🏠🏠🏠 (auch in der deutschen Sprache *Brain Drain* genannt und meistens grossgeschrieben). Vor allem für Entwicklungsländer (mit ehedem äusserst dünner Schicht 😞 dieser Personengruppe) wirkt sich dies verheerend aus 🏠🏠. Als Massnahme gegen 🏠🏠 den Brain Drain sollten am besten streng überwachte 🏠🏠 Auswanderungsverbote \$\$\$ erlassen und diese gegebenenfalls durch Sippenhaft 🏠 durchgesetzt werden. – Beurteilen Sie diesen Vorschlag.

(19) Es wird 🏠 behauptet, dass in den konsumnahen Bereichen neu eingeführte ➡ Produkte ("echte" Neuheiten 🏠, also keine 😞 me-too-products bzw. Produkt*variationen*: beide Gruppen zusammen werden auf über 95% der "Neu"-Einführungen geschätzt) allemal einer wenigstens zwei- bis dreijährigen Marketing-Unterstützung 🏠 bedürfen, um sich am Markt 🏠 zu halten. – Nennen Sie Gründe.

(20) Keine Macht der 🌍 Erde kann den Lohn über den Wert dessen hinaus erhöhen, was die Arbeitsleistung dem Erzeugnis an ΔEUR Wert zusetzt. – Beurteilen Sie diese Aussage.

(21) Statistiker haben herausgefunden, dass die ↗ Zunahme der ✂♥ Ehescheidungen in Deutschland um 1 Prozent das Bruttoinlandsprodukt (der Wert aller Waren und Dienstleistungen, die [wenn nicht ein anderer Zeitraum ausdrücklich genannt] in einer Volkswirtschaft innert eines Jahres im Inland hergestellt bzw. erbracht wurden, bewertet zu Marktpreisen) um 0,7 Prozent ↗ ansteigen lässt. – Zählen Sie allfällige Gründe auf. Welche Schlüsse lassen sich daraus hinsichtlich des Sozialprodukts als Wohlstands-Masstab ziehen?

(22) Von 1651 bis 1849 galt in England die §§§ Navigationsakte ☹️. Die Wareneinfuhr → war nur auf britischen 🚢 Schiffen erlaubt. – Beurteilen Sie diese (hauptsächlich gegen die Niederlande und später gegen die aufstrebenden ↗ \$\$\$ USA gerichtete) Massnahme.

(23) Die Schienen 🚂 für den Schnellverkehr der Bahn 🚄 sind heute fugenlos verschweisst =. Der dazu verwendete Stahl muss daher den x^n höchsten Anforderungen in Bezug auf Temperaturschwankungen 📉, Stossfestigkeit 💣 und Elastizität $\partial x \div \partial y = \max!$ genügen 😊. Solche Stähle mit besonderen physikalischen Eigenschaften müssen aus Sicherheitsgründen !❌! im Inland hergestellt werden; ihr → Import 🌐 wäre zu risikoreich. – Beurteilen Sie diese Meinung.

(24) Unter der Regierung des römischen ✂ Kaisers *Domitian* (reg. 81 bis 96 n. Chr.) wurde die Einfuhr → billigen Speiseöls 🛢 und billiger Weine 🍷 aus den Provinzen Spanien und (Süd)Frankreich mengenmässig beschränkt 🚫, um die apenninische Wirtschaft zu schützen. In der Folge stiegen die Getreidepreise in Italien 😊😊😊 (zunächst) sehr ↑↑↑↑ stark an ☹️. — Die Redner im Senat 🗣️🗣️🗣️ waren einhellig der Meinung, dass für die Erhöhung der Getreidepreise ↗↗↗↗ die verfügbaren → Importbeschränkungen §§§ für Öl und Wein ursächlich sind. – Wieso?

(25) Um 1925 kam es weltweit 🌐 zu einem 📈 Anstieg der Preise ↗ für pflanzliche ♣️♣️♣️♣️ Fette, vor allem für Kokos- und Palmkernfett sowie für Palm-, Soja-, Raps-, Sonnenblumen- und Erdnussöl. Die Einkäufer und 📅...📅 Termindisponenten 🌐🌐🌐 aus – ❶ der (britisch-niederländischen) Margarine-Union (1926 infolge ✂ Zusammenschlusses der zwei Firmen *Van den Bergh* und *Jurgens* entstanden; beide hatten Produktionsstätten 🏭 in vielen europäischen Ländern) und aus – ❷ der (britischen) Lever-Gruppe (Sunlight: von *William H. Lever* [1851–1925] gegründeter Seifenkonzern) überboten sich gegenseitig ✂ um die knappe Rohware; denn sowohl der Mar-

garine-Konsum 🍷 als auch der Seifenpulver-Verbrauch 🧼 wuchsen an 📈. Im September 1929 löste 🗝️ man das 🚧 Engpass-Problem 🍰🎵🎶🎵. – Welche Möglichkeit bot sich angesichts des Nachfrage-Duopols am ehesten an?

(26) Innert von 14 Jahren, zwischen 1526 und 1539, lieferte das 🌐 Haus Fugger über 1 334 Tonnen (267 000 Zentner) Kupfer **Cu** aus seinen Pachtgruben in Ungarn nach Antwerpen. Das Metall wurde über Strassen 🛤️ an die Ostsee-Küste gebracht und dort in Schiffe 🚢 umgeladen. – ❶ Wozu brauchte man in Antwerpen das viele Kupfer? – ❷ Beurteilen Sie die Verkehrsströme.

(27) Im verflorenen Fürstentum Nassau-Siegen 😞 gab es unter anderem – ❶ eine *Hochzeitstisch-Steuer*: 1 Tisch 🗄️ mit 10 Personen (darin eingeschlossen das neuvermählte Paar 👤👤 und deren Eltern) war **0%** abgabenfrei. Für jeden weiteren 🗄️🗄️🗄️ Tisch musste eine gesalzene 🏹 Steuer \$\$\$ bezahlt werden; zudem waren auch noch 10% des Wertes $\frac{1}{10}$ der Hochzeitsgeschenke 📦 an die Armenkasse abzuführen 📬, – ❷ eine *Musiksteuer*: wer öffentlich herumsang 🎤🎵 oder mit Instrumenten aufspielte 🎸🎵 und so Gelärm veranstaltete 😞😞😞 hatte eine ✂️ Abgabe zu entrichten. – Beurteilen Sie diese Steuerarten (in Bezug auf ❶ ausserdem in Hinblick auf die allfällige Wiedereinführung).

(28) Die moderne Informationstechnologie 🖨️📧📠📺📠📠📠 verändert 📈 zunehmend 📈 auch das Bankgeschäft. Mehr und mehr +📧+ nämlich wird diese auch zum automatisierten Zugang auf Bankprodukte und Finanzdienstleistungen (*Remote Banking*) genutzt werden. Dabei ist nicht so sehr an 📧 Geldausgabe-Automaten oder 📞📞 Telephon-Banking zu denken, sondern vor allem an 📠📠 Online-PC-Banking und 📶 Internet-Banking. – Wie wird sich der wachsende Gebrauch der Fernzugangstechniken – ❶ auf den 🔄 Wettbewerb und die 📠 Kundenbindung in der Bankbranche, – ❷ das Risikomanagement (wie: interne 👁️ Kontrollsysteme, Gewährleistung der Sicherheit 👉 der Online-basierten Geschäfte) der Banken, – ❸ auf die gesamtwirtschaftlichen 📈 Zahlungsströme, – ❹ auf die Bestimmungen der \$\$\$ Bankenaufsicht wahrscheinlich auswirken?

(29) In Frankreich 😊😊😊 führte man eine *Billardsteuer* \$\$\$ nach Massgabe der vorhandenen Billardtische 🎱 in Gaststätten 🍷 ein. – Beurteilen Sie diese Steuer.

(30) Durch Erlass §§§ des preussischen ⚡ Ministers des Innern vom 27. Dezember 1921 wurde den Gemeinden in Preussen ⚡ die Erhebung einer *Elektrizitätssteuer* ⚡ fortan ⚡ untersagt. – Beurteilen Sie dieses Verbot.

(31) Die reichsstädtische Ravensburger Handelsfamilie 🏰 *Muntpart* besass im 14. Jahrhundert eine Monopolstellung bei Safran (getrocknete Blütennarben der Krokus-Pflanze), den man in der Pharmazie 📖, in der Küche 🍲 sowie zum Färben von Textilien 🧵 nachfragte. Die Pflanzungen 🌿 lagen in Katalonien (Nordostspanien; Hauptstadt: Barcelona). – Beurteilen Sie dieses Monopol.

(32) Bis heute halten die Indianer Brasiliens im Innern ihrer Dörfer 🏠 viele Tiere 🐔 🐓 🐕. Man kennt sogar die Kunst, das Gefieder lebender Vögel 🦋 zu färben. Keines dieser Tiere wird jedoch des wirtschaftlichen \$\$\$ Nutzens wegen gezüchtet; selbst die Eier 🥚 der Hühner werden nicht 🍷 gegessen. – Beurteilen Sie dieses Verhalten.

(33) Durch §§§ Gesetz vom 14. Februar 1911 wurde in Deutschland eine ✂ *Bauplatzsteuer* eingeführt 🏠. Im Durchschnitt ⌀ mussten 30% des Unterschiedes zwischen Erwerbspreis \$\$\$ und Veräußerungspreis 📄 eines unbebauten Grundstücks als 😞 Steuer $\frac{1}{3}$ an das Reich abgeführt werden. – Beurteilen Sie diese Massnahme.

(34) *Warenhaussteuern*, um 1890 in Europa allenthalben eingeführt –\$–\$, sollten den 🎵 aufkommenden Warenhausbetrieb 😞 gegenüber dem Kleingewerbe 😊 erschweren 🎸. – Beurteilen Sie diese Massnahme.

(35) Immer wieder sahen sich die Kaufleute 🏰 der Hanse (1241 gegründetes Handelsbündnis §§§ zwischen Lübeck und Hamburg, das später durch 🏠 Beitritt vieler weiterer Städte zu einem beherrschenden Kartell 🏰 anwuchs) des Vorwurfs 🧠 der Wurzerei 🧠, des 🎀 Wuchers 😞!😞!😞 ausgesetzt, wenn die von ihnen gelieferten Güter für den Massenkonsum (Fisch 🐟, Getreide, Bier 🍺, Holz, Tuche 🧵, Salz **NaCl**) aufgrund von Lieferengpässen 🏹 teurer ↑↑↑ wurden. Dagegen wurde kaum gemurrt 😞🧠😞, wenn die Venezianer ihre Waren (vor allem: Gewürze und Seide) im Preis 📈 anhoben. – Erklären Sie diese unterschiedlichen Reaktionen.

(36) In England wurde durch §§§ die *Recovery Act* vom 24. März 1921 bestimmt, dass der britische ➡ Importeur deutscher Waren einen Teil % des Wertes (bis zu 50%)

an das britische Schatzamt $\frac{1}{2}$ zwecks Abdeckung der im ☹️☹️☹️ Versailler 🕊️ Friedensvertrag (nach dem ✂️ verlorenen ☹️☹️ Ersten Weltkrieg 1914 bis 1918 ☠️) auferlegten Verpflichtungen \$\$\$ Deutschlands abzuführen hatte. – Beurteilen Sie diese Massnahme.

(37) Grössere Städte in Deutschland führten \$\$\$ um 1920 eine ✂️ *Beherbergungssteuer* ➡️ von 15% bis 20% des Zimmerpreises \$\$\$ in Hotels $\frac{1}{5}$ ein. – Beurteilen Sie diese Massnahme.

(38) Durch \$\$\$ Gesetz vom 20. März 1923 führte man in Deutschland eine ✂️ *Kohlensteuer* \$\$\$ in Höhe von maximal 40% (!!!) des Kohlenpreises ein ☹️, wobei für einzelne Sorten verschiedene Sätze % erhoben wurden. Bereits am 14. Februar 1924 jedoch wurde die Kohlensteuer wieder ✂️ aufgehoben. – Warum?

(39) Durch die \$\$\$ *Personalabbauverordnung* vom 27. Oktober 1923 wurde die Pensionierungsgrenze für Reichs-Beamte in Deutschland vom 68. auf das 65. Altersjahr ☹️☹️☹️ herabgesetzt. – Beurteilen Sie diese Massnahme.

(40) Im revolutionären 👍👍 Frankreich ☹️☹️☹️ des Jahres 1789 erkannte 🕒 man in der Armut ein 🩸 "Krebsgeschwür der 🇫🇷 Bourbonen Monarchie". In wenigen Jahren 🕒 sollte die Armut völlig ± 0 und auf immer ✓ verschwunden 🌟🗨️ sein. In Wirklichkeit hatte sich innert von nur 5 Jahren die Zahl der Armen $\times 3$ verdreifacht, die Armenanstalten waren jedoch $\frac{1}{3}$ auf ein Drittel 📉 vermindert. – Nennen Sie wahrscheinliche Gründe.

(41) Auf Faxgeräte 📠 und Readerprinter 📄 muss \$\$\$ seit 1993, auf Scanner 📠 seit 1998 eine ✂️ *Kopierabgabe* \$\$\$ beim Kauf entrichtet werden. Auch für 🖨️ Computer ist in Deutschland eine (einmalige oder monatliche) Zahlung an die Einzugsbehörde für Rundfunkgebühren geplant. – Beurteilen Sie diese Vorschriften.

(42) Durch Reichsverordnung vom 13. Juli 1923 wurden "zum Zwecke der Preisprüfung" 🕒 örtliche, mittlere und Landesprüfstellen \$\$\$ sowie eine Stelle für das Reichsgebiet 👁️👂 eingerichtet. Schon 1926 hob man diese Behörden 🏢🏢🏢 wieder ✂️ auf. – Beurteilen Sie diese Massnahme.

(43) Das in 4 000 Meter $\uparrow N$ hoch gelegene Silber **Ag** von Potosi im heutigen Bolivien schien den Spaniern völlig $\pm 0,00$ wertlos, weil es nicht zu verhütten ☹☹☹ war: in dieser Höhe gab es ☹☹☹ weit und breit kein ♣♣♣ Holz. Sie traten daher das §§§ Schürfrecht 1542 mit Vergnügen 😊😊😊😊😊 an das Haus Fugger (zu dieser Zeit schon ein 🌐 multinationales Unternehmen!) ab. – Die Geschäftsleitung des Hauses Fugger 👤 liess aus dem zum Konzernbereich ⌘ gehörenden Pachtgruben in Almadén (Spanien) Quecksilber **Hg** zu den Silberadern in Peru 🚢 bringen. Quecksilber ☹ verdampft; der Dampf ☹☹☹ verbindet sich ∞ mit Silber zu Silberamalgam **Ag₂Hg**, aus dem das Quecksilber ☹ wieder zurückgewonnen werden kann. – Welche Lehren lassen sich daraus ableiten?

(44) In Frankreich 😊😊😊 wurde die ✂ *Gebäudesteuer* §§§ zeitweilig nach der Anzahl der *Türen* und *Fenster* 🏠 , in Österreich ☹☹☹ nach der Zahl der *Wohnräume* erhoben. – Beurteilen Sie diese Massstäbe.

(45) Kartelle ⌘ gedeihen um so 😊😊 sicherer, je geringer ↑↑↑↑↑ die Zahl der Konkurrenten ↻ ist. – Beurteilen Sie diese Aussage.

(46) Nach dem §§§ *Zuckersteuergesetz* vom 15. Juli 1927 unterlag in Deutschland Zucker **C₁₂H₂₂O₁₁** dann nicht der (verhältnismässig hohen ☹) Zuckersteuer §§§ , wenn er 🌐 exportiert ← wurde. – Welchen Sinn $\text{???$ hatte diese Ausnahmeregelung?

(47) Um 1780 führte man in vielen deutschen Territorial-Staaten die 👮 *Feuerpflichtversicherung* §§§ ein. Gleichzeitig legte man den Gemeinden auf, für Feuerlöscheinrichtungen (Teiche **H₂O**, Spritzen 🔧 , Besatzung 👤👤👤) zu sorgen. – Beurteilen Sie diese Massnahmen.

(48) Um 1300 bereits umfasste die Heringsflotte der ⌘ Hanse etwa 40 000 (!!) Boote 🚢🚢🚢 , gut 300 000 (!!) Fischer 👤👤👤👤👤 wurden beschäftigt. Der Fischabsatz 🐟🐟 lief +++ im grossen und ganzen recht gut 📈 . Trotzdem klagten 👤👤 die Kaderleute der Hanse 👤👤 ständig 🕒...🕒 über die immer reicher »Δ§§§« werdenden grossen ☹☹☹ Adligen, auf deren Grund und Boden das Salz **NaCl** gewonnen wurde. – Beurteilen Sie diese Klagen.

(49) Um 1870 engagierten \$\$\$ sich die *Stahlwerke* 🏭 an der Ruhr im *Schiffsbau* 🚢 (Thyssen: Blohm & Voss, Bremen; Krupp: Germaniawerft, Kiel). – Warum? Wie wäre die Lage heute zu beurteilen?

(50) Frankreich 😊😊😊 führte \$\$\$ 1873 eine ✂ *Seifensteuer* ein, hob sie 1878 aber ☒ wieder auf. – Beurteilen Sie diese Massnahme.

(51) Das alte Ägypten hatte keine Waldungen 🌲🌲🌲🌲, und Holz war daher im Inland 🕒 so gut wie gar nicht 😞😞 verfügbar. Es musste (teilweise von weither 🚢) importiert → werden. – Beurteilen Sie diese Holzarmut vom volkswirtschaftlichen Standpunkt.

(52) In Magdeburg wurden 1301 zehn Handwerksmeister 🧑🧑🧑🧑 auf dem Marktplatz ☐ lebendigen Leibes 😞😞 öffentlich 🔥 verbrannt. Sie hatten einen 📢 Aufruhr 🗣️🗣️🗣️ gegen die Kaufleute 🧑🧑 angezettelt, die ihnen angeblich ihren Lebensunterhalt wegnahmen 📄. Von anderen Städten sind ähnliche Vorfälle 📄 aktenkundig. – Beurteilen Sie die Konfliktlage.

(53) An deutschen Hochschulen 🏛️ mussten (wie bis um 1960 üblich 😊 und in den meisten Staaten der Welt 🌐 bis heute als Selbstverständlichkeit praktiziert) wieder *Gebühren* (Belegelder) \$\$\$ eingeführt werden. Ausserdem gilt es, die stressigen Semesterferien 🌴🏠🚗🌐 → 📖📖 (zumindest für die Studierenden 😊), endlich aufzuheben ☒. – Beurteilen Sie diese Forderung.

(54) Der römische ✂ Kaiser Trajan (reg. 98 bis 117 n. Chr.) verfügte \$\$\$, dass Investoren 🧑 bestimmte Quoten $\frac{1}{n}$ ihres Kapitals \$\$\$ in Betriebe der apenninischen 🌲🐕🍀 Landwirtschaft anzulegen hatten. – Beurteilen sie diese Massnahme.

(55) Die Verarbeiter von Alkohol (Äthanol $\text{CH}_3\text{CH}_2\text{OH}$) zu Nichtverzehrzwecken 🍷 (Gesichtswasser 😊, Haarspiritus) benutzten, um dem sehr 😞 hohen Preis \$\$\$ des staatlichen Branntweinmonopols \$\$\$ in Deutschland zu entgehen, immer häufiger Isopropanol (Isopropylalkohol $(\text{CH}_3)_2$), den sie "maskierten" 🧠🧠 (= durch entsprechende Duftstoffe verkehrsfähig machten). – ❶ Beurteilen Sie diese Steuervermeidung. – ❷ Mit welchen Mitteln wäre ihr zu begegnen? .

(56) Die ✂ *Jagdsteuer* 🦋🐕 kann von den Gemeinden bzw. Kreisen als Steuersatz % von der Bodenfläche oder vom \$\$\$ Pachtsatz (Höhe der zu zahlenden Pacht) bemessen werden. – Beurteilen Sie diese Berechnungsarten.



(57) Durch das \$\$\$ *Beförderungssteuergesetz* vom 29. Juni 1926 wurde in Deutschland für den Transport von Personen, Gepäck 📦 und Gütern auf Schienen 🚆, Strassen 🚌 und Wasserwegen 🚢 eine vom Beförderungspreis \$\$\$ abhängige % Steuer 😞 eingeführt. – Beurteilen Sie diese Massnahme.




(58) Um sich vor dem 🦠 Erreger (dem CHLAMYDIA TRACHOMATIS) einer weit verbreiteten 😞😞😞 Entzündung der 👁️👁️ Augenbindehäute (Körnerkrankheit; Trachom → führt zur 🙅 Erblindung) zu 🙅 schützen, trugen die alten Ägypter eine Salbe 📦 um die Augentränder auf. Diese enthielt als Wirkstoff Antimon (Stibium, chem. Zeichen: Sb, ein metallisches Element), das per 🐪🐪🐪 Karawane (= Frachtzug mit Lasttieren) aus den Gebirgen 🏔️🏔️🏔️ des nördlichen Vorderasiens 🌐 importiert → werden musste. – Beurteilen Sie – ① den Preis, – ② die Preiselastizität der Nachfrage $\epsilon = \partial m / \partial p$ für dieses → Importgut.






(59) Nach dem deutschen \$\$\$ *Teledienstgesetz* (TDG) unterliegen – ① Anbieter von 📺 Mediendiensten immer und – ② Anbieter von 📺 Telediensten bei geschäftsmässigen Angeboten einer im Gesetz sehr genau beschriebenen Anbieterkennzeichnungspflicht. Dienstanbieter ist dabei derjenige, welcher – ① eigene Inhalte zur Nutzung bereithält (*Content-Provider*), – ② fremde Inhalte zur Nutzung bereitstellt (*Service-Provider*) und – ③ lediglich den Zugang zu Tele- oder Mediendiensten vermittelt (*Access-Provider*). – Was ist der Sinn dieser Vorschrift? .







(60) In vielen Staaten gab es bis in die Neuzeit eine ✂ *Mahlsteuer*. Sie wurde auf Getreide, Mehl, anderen Mühlenprodukten und Backwerk % erhoben. Daneben konnte man die ✂ *Schlachtsteuer*. Ihre Bemessungsgrundlage bildeten Zahl, Art und Gewicht $\frac{1}{n}$ der zu 🦋 schlachtenden 🐕 Tiere. – Beurteilen Sie diese Steuerarten.





(61) Der Anteil $\frac{1}{n}$ der ausserehelich Geborenen 🦋🦋 liegt in Deutschland derzeit (über die Bundesländer ziemlich ≡ gleichmässig verteilt) bei 18%, in den USA dagegen bei 32% mit starker σ Streuung. So liegt diese Quote % in Washington, DC. bei 73% 😞; und dies trotz der Tatsache, dass dort mindestens $\frac{1}{3}$ ein Drittel der Schwanger-



schaften durch  Abtreibung  beendet wird. – Welche *ökonomischen* Folgen sehen Sie in dieser Tatsache.




(62) Der Sozialstaat ist dann am besten  verwirklicht, wenn auf einen  Leistungserbringer (Beschäftigten, Steuerzahler \$\$\$) ein  Leistungsempfänger (Sozialhilfeberechtigter, Almosengenössiger) kommt. – Beurteilen Sie diese Aussage.

(63) Im Jahre 1171 wurden fast 20 000 im byzantinischen Reich ansässige Venezianer  in einem  Pogrom (= Verfolgung  einer Bevölkerungsgruppe) gejagt, eingekerkert  und \$\$\$ enteignet. Daraufhin setzte die Republik Venetien ("Serenissima": zu jener Zeit Monopolist für den Schiffs- und Warenverkehr mit dem Orient) eine Handelssperre  gegen Byzanz durch. – Beurteilen Sie die Erfolgsaussichten

(64) Die Verwirrung der Geister  beginnt mit der Vernebelung  der Begriffe. – Erklären Sie diese Aussage anhand der  Begriffe – ① Gleichheit (= Gleichbehandlung der  Fleissigen und  Faulen!) , – ② Solidarität (= Umverteilung!), – ③ soziale Gerechtigkeit (= Umverteilung!), – ④ Sozialabbau (= Bewahrung nicht mehr vom  Markt nachgefragter Kapazitäten), – ⑤ Steuergerechtigkeit (= Umverteilung!), – ⑥ Ausbeutung (= Verlangen nach eigener Leistung für bezahlten Lohn), – ⑦ soziale Errungenschaften (= Einrichtungen, für deren Nutzung andere ["Besserverdienende"] aufzukommen haben).

(65) In der Regel beaufsichtigen  heute Wirtschaftsjournalisten  ein Grossunternehmen beständiger  und strenger als dessen gutbezahlter  Aufsichtsrat. – Beurteilen Sie diese Aussage.

(66) Derzeit gibt es weltweit  etwa 190 verschiedene Nationen und damit 190 unterschiedliche \$\$\$ Gesellschafts- und Wirtschaftsordnungen. Trotzdem spricht  man ständig von einer "Globalisierung" der Welt. – Liegt darin ein Widerspruch?

(67) In den USA  wechseln jährlich 9% der Arbeiter  freiwillig den Arbeitsplatz. In Europa liegt dieser Anteil  unter 1%. – Beurteilen Sie diese Quoten.

(68) Betriebsräte in Deutschland 🏢 dürfen Bestimmungen in bestehenden Tarifverträgen (die zwischen den Verbänden [also Gewerkschaften 🗣️ und Arbeitgeberverbänden] ausgehandelt worden sind) durch Betriebsvereinbarungen 📄 *nicht* abändern (Vissmann-Urteil des §§§ Bundesarbeitsgerichts 😞😞😞🔪🌙 1996: das Unternehmen wollte ein neues Werk in Tschechien errichten; die Belegschaft 🧑🧑🧑🧑 bot daraufhin an, wöchentlich anderthalb Stunden ⌚ mehr zu arbeiten). – Beurteilen Sie dieses Verbot.

(69) Es ist ein Zeichen des Fortschritts ✓, wenn das Parlament die Ladenbesitzer indirekt §§§ zwingen muss, ihre Öffnungszeiten werktags anderthalb Stunden ⌚ zu verlängern, wie in Deutschland 1996 geschehen. – Beurteilen Sie diese Aussage.

(70) Während der Sozialismus 🏢🔄🏢 aller Schattierungen die Wirtschaft bis heute in erster Linie vom *Sachkapital* (von den Produktionsmitteln 🛠️) aus betrachtet, sieht der Liberalismus primär auf die *Triebfedern* des Wirtschaftens, nämlich auf 🌀 Erfindungsgabe !😊!, Entdeckerdrang !🚀😊!, Risikobereitschaft !😊! Gestaltungskraft !😊!, persönliche Initiative !😊! und Unternehmergeist 📈. Auch in den neueren päpstlichen Dokumenten 📁✝️ zur Wirtschaft steht der *menschliche Geist* 🚀💧🧪 an erster Stelle als *die* grundlegende 1st natürliche Ressource. - Welche Sicht der Dinge fasst die ökonomische Realität am besten?

(71) Die Entwicklungstheorie 📖 ist im grossen und ganzen zu sehr Lehre von der *Armut* 😞, viel zu wenig jedoch eine Anleitung zum 💰 *Reichtum* 😊. – Beurteilen Sie diese Aussage.

(72) Märkte 📊 erzwingen Modelle vernünftigen Denkens (Michael Novak, amerikanischer Sozialwissenschaftler). – Beurteilen Sie diese Aussage.

(73) Im Vergleich zu Brasilien, dessen natürliche Ressourcen überreich und dessen Lebensraum riesig ist, leben 140 Mio Japaner 🇯🇵 dicht gedrängt auf Küstenebenen kleiner 🌴🌳 Inseln, auf denen es $\frac{1}{n}$ kaum natürliche Ressourcen und praktisch keine Energiequellen gibt. Trotzdem ist Japan reich 😊 und Brasilien arm 😞. – Erklären Sie diese Unterschiede.

(74) Freie Märkte 📊 sind stets in Bewegung 🌊 und bringen technischen 🏗️ und kulturellen 🎨🧠🎵📖 Fortschritt hervor. – Beurteilen Sie diese Aussage.

(75) Jeder unnötige Zwang \$\$\$ und jede Bürokratisierung 😞🔒🚫 setzen sich in der Wirtschaft selbsttätig in einen Fehlbetrag ✂️-\$\$\$ um (Paul Bang, deutscher Wirtschaftspolitiker). – Beurteilen Sie diese Aussage.

(76) Es ist für einen Staat das grösste Übel 😞, wenn vor allem diejenigen 🏠👥🌱 über die Wirtschaft 📦 befinden 🧠💡, die nichts ±μ0 zu verlieren und damit auch nichts aufs Spiel zu setzen haben. – Beurteilen Sie diese Aussage.

(77) Eine Grundbedingung allen dauerhaften 📁...📁 Wirtschaftens ist politische Π Stetigkeit. – Beurteilen Sie diese Aussage.






(78) "Der Eine 🌱 braucht fremde Einfälle und Gedanken 🧠💡👤 für seine Arbeit, der Andere braucht fremde Arbeit 🧑🏭 für seine Gedanken und Einfälle. Das Ganze nennt man Wirtschaft" (Paul Bang, deutscher Wirtschaftspolitiker). – Beurteilen Sie diese Aussage.

(79) Wirtschaft ist stets 😊😊😊 Dienst am 🧑🏭🧑🏭🧑🏭 Kunden. Wo immer dieses Bewusstsein schwindet 📉, treten Krisen 😞😞😞📉 auf. Das gilt sowohl für einzelne Unternehmen und Branchen als auch für ganze Volkswirtschaften (→🏠 Staatshandelsländer!). – Erläutern Sie diese Aussage.




(80) ① In der Tauschwirtschaft 🔄 macht jeder 🧑🏭 seinen Vorteil 📈. — ② Der 📈 Gewinn 📈😊🎵 des Einen 🧑🏭 bedeutet immer Verlust 😞📉 für den 🧑🏭 Anderen. – Beurteilen Sie diese beiden Aussagen.



(81) Nirgends 🌍 ist die aus der Zeit des Absolutismus 🏰😞 überkommene und vom Sozialismus 🏠★ neu belebte 📖 Anbetung der Paragraphen \$\$\$, die Vergötzung der "Organisation", die Sehnsucht nach Befehl 🧑🏭 und Ver=Ordnung 📄 sowie die Liebe ❤️ zum Schema F so gross wie in Deutschland (nach Paul Bang). – Beurteilen Sie diesen Vorwurf.



(82) Um 1922 setzte in Deutschland die grosse Verbreitung ➡️ des 📻 Rundfunks ein 🌱. Man war bestimmt davon 😊✓ überzeugt, dass dadurch die Bildungsun-





terschiede $\downarrow\uparrow$ innert der  Bevölkerung in wenigen ... Jahren verschwinden \downarrow , der Wissensstand gesamthaft erheblich $\nearrow\nearrow\nearrow$ steigen und aufgrund dessen ein starker  Innovationsschub ausgelöst werden. – Warum erfüllten sich diese  Vorhersagen kaum?








(83) Die schlimmsten  Strikes     im 20. Jahrhundert fanden weltweit  nachweislich in $\S\S\S$ verstaatlichten Betrieben  statt. – Nennen Sie Gründe für diese Tatsache.







(84) Angebot  und Nachfrage  sind im Grunde dasselbe. Denn beim \leftrightarrow Tausch handelt es sich stets um gegenseitige  Nachfrage. – Beurteilen Sie diese Aussage.

(85) Marktbedingungen  kann man nicht ausschalten , sondern nur regeln $\S\S\S$. – Erklären Sie diese Aussage.

(86) Kaufen kann jeder, aber verkaufen ist eine Kunst  !. – Erklären Sie diese Aussage.

(87) Jede betriebliche  Aufgabe wird am besten und sparsamsten \Rightarrow im kleinsten  Kreise , in dem sie lösbar ist, bewältigt. – Wer eine Aufgabe aus seiner Zuständigkeit an die nächsthöhere Stelle im Unternehmen  überträgt, erreicht mit doppeltem Aufwand die halbe $\frac{1}{2}$ Lösung. – Beurteilen Sie diese Aussagen.

(88) Erfolg und Reichtum  eines Unternehmens  liegt nicht so sehr in seinen "Werten" (wie Gebäude , Maschinen , Belegschaft , Management , Patente  $\S\S\S$), sondern in seinem *Umsatz* bzw. Gewinn $\S\S\S$. – Beurteilen Sie diese Aussage.

(89) Die gefährlichste Selbstsucht   ist die     Gruppenselbstsucht (Paul Bang). – Beurteilen Sie diese Aussage anhand von Beispielen.

(90) Eine gesunde 😊! Wirtschaft 🏠 ist nur dann ✓ möglich, wenn jeder 👤👤👤👤 die Folgen seiner Fehler 😞 selbst trägt. – Beurteilen Sie diese Aussage.

(91) Im Preis ist der $\frac{1}{n}$ Anteil der Frachten 🚚 um so grösser, je mehr Herstellungsstufen 🏭 durchlaufen werden. – Welche Schlüsse lassen sich daraus ziehen?

(92) In fast ganz Lateinamerika ist der offizielle → Marktzutritt 🏢 für Kleinst- und Kleinunternehmer aufgrund gesetzlicher Bestimmungen \$\$\$ oder bürokratischer Chicanen 😞😞😞 stark behindert. – Welche Folgen dürfte diese Tatsache haben?







(93) Die geschichtliche Erfahrung belegt völlig ✓ zweifelsfrei: überall dort, wo Eigentumsrechte \$\$\$ nicht über Generationen geschützt 😞😞 waren, traten ökonomische Stagnation 🚫🔒 xxx oder gar Niedergang 📉📉📉📉 ein. – Erklären Sie diese Tatsache.







(94) Die Schuldenlast 📈📈📈📈📈^N vieler Länder der "Dritten Welt" 🌍 beweist, dass das geliehene Geld \$\$\$ nicht produktiv genug eingesetzt wurde, um 😊 Gewinn zu erzielen und daraus die Zinsen zu zahlen. – Erläutern Sie diese Aussage.







(95) Nach der Wieder-Vereinigung 😞 Deutschlands im November 1989 stellte sich heraus, dass der Arbeitsertrag eines Beschäftigten in der 🏭 Industrie des "Beitrittsgebietes" (= der ★ Deutschen Demokratischen Republik, des mit Hilfe des grossen 😊★★😊★★😊 Sowjet-Brudervolkes mit Begeisterung 😊😊 der Massen aufgebauten ersten 😊👉★😊🏠 volks-demokratischen Staates auf deutschem Boden) nur knapp 30%, in der Landwirtschaft 🍀🍀🍀 gar wenig mehr als 25% im Vergleich zu Westdeutschland betrug. – Nennen Sie Gründe für diesen grossen Unterschied.








(96) Umweltschutz und 🏢 Marktwirtschaft stehen in ⇔⇔ Widerspruch zueinander. – Beurteilen Sie diese Aussage.


(97) Der weit verbreitete, durch das Fernsehen 📺! 📺📺! begünstigte Tugend-schwund schafft eine immer grössere Zahl xxxxxxⁿ von auf sich selbst bezogenen 🎯 Lustbetonten &👉 sowie von Anspruchstellern 📢📢 an die Gesellschaft. Beides sind Todeskeime ☠ für die liberale Wirtschaftsgesellschaft (Michael Novak). – Begründen Sie diese Sorge.

(98) In Peru sind 43% aller Häuser  in Schwarzarbeit gebaut; nur 3,5% aller Wohnhäuser  haben eingetragene Rechtstitel $§§§$. Über 90% der Transportmittel   stellt der "informelle Sektor" bereit. Der Anteil der Schwarzarbeit am Sozialprodukt wird für 2000 auf etwa 40 Prozent geschätzt. Zwei Drittel $\frac{2}{3}$ aller Armen in Peru sind weder Landarbeiter  noch Fabrikarbeiter : sie sind *Unternehmer!* – Beurteilen Sie diese Zahlen.





(99) Ökonomische Armut  wird am ehesten überwunden  durch Wissensvermittlung allgemein   und durch Weckung des Unternehmergeistes   im besonderen (Papst Johannes Paul II, Centesimus annus, № 33). – Beurteilen Sie diese Aussage.



(100) Marktangebot  heisst: sich einem unparteiischen Gremium      vorzustellen. – Erklären Sie diese Aussage.

(101) Die schlimmste Folge einer unbeschränkten freihändlerischen Politik ist die  Verschiebung der     Ernährungsgrundlage von innen  nach  aussen (Paul Bang). – Beurteilen Sie diese Aussage



(102) Wer Geld $$$$$ und Kapital  verwechselt, verwechselt Güterwagen mit ihrem Inhalt (Paul Bang). – Beurteilen Sie diese Aussage.


(103) Banken sind keine Krankenhäuser   und auch keine Erholungsinseln  (nach Paul Bang). – Erklären Sie den Sinn dieser Aussage.

(104) Je länger  ...  der Produktionsvorgang, um so belastender $\nabla\%\nabla$ sind die Zinsen. Bei der Landwirtschaft   müssen für 12 Monate Zins aufgewendet werden. – Erklären Sie diesen Zusammenhang.


(105) Zinslose Kredite $$$$$ bedeutet Hergabe wirtschaftlicher  Leistung  ohne Gegenleistung (Paul Bang). – Wieso?





(106) Entschuldung $-\$-\$-\$$ ohne Wiederherstellung der Ertragsfähigkeit bringt zwangsläufig neue Schulden $+\text{☹}+\$+\$+\n – Wieso?

(107) Die Geschichte lehrt unzweifelhaft: wo immer die  Reichen $\$ \$ \$$ enteignet wurden, verhungerten  bald darauf auch die Armen. – Wieso?

(108) Etwa 70% des Volkseinkommens in den Industriestaaten geht durch die Hand der Hausfrauen . – Welche Schlüsse lassen sich daraus herleiten?


(109) Der Grundgedanke der Quantitätstheorie des $\$ \$ \$$ Geldes $G \times V = H \times P$ ist und bleibt die gesicherte Grundlage einer gesunden Π Währungspolitik (Paul Bang). – Beurteilen Sie diese Aussage.



(110) Wer Arbeitslosigkeit durch Geldvermehrung $+\$ \$ \$ +$ überwinden will, erhält als Quittung verstärkte  Arbeitslosigkeit (Paul Bang). – Wieso?

(111) "Nicht das Verlangen  nach einem besseren Leben  ist schlecht. Falsch  ist vielmehr ein Lebensstil , der vorgibt, dann besser zu sein, wenn er auf das *Haben* und nicht auf das *Sein* ausgerichtet ist" (Papst Johannes Paul II, Centesimus annus, № 36). – Beurteilen Sie diese Aussage.

(112) Nachfrage ist nicht Bedarf, sondern tauschwilliges $\$ \$ \$$ Geld. – Erklären Sie diese Aussage.

(113) Die Stadt trennt . Je enger  die Menschen  zusammenwohnen, um so fremder ! werden sie sich. – Welche *ökonomischen* Folgen hat dies?

(114) "Gerechten" Lohn $\$ \$ \$$ und "gerechten" Preis €€€ gibt es nur als Leistungslohn und  Wettbewerbspreis. – Warum?

(115) Ökonomischen Erfolg $\uparrow \$ \$ \$ \uparrow$ sichert niemals die Hilfe des $\$ \$ \$$ Staates, sondern immer nur der persönliche Wagemut , die Eigeninitiative ! – Beurteilen Sie diese Aussage.

(116) Kein Land investiert \$\$\$ mehr in Universitäten 🏛️ als die USA. – Mit Erfolg?

(117) Wenn Gewinn \$\$\$ aus Kapital 💰 und Arbeit 👤 besteht, dann besteht das Geigenspiel 🎵 aus Holz und Darmsaiten oder Schrifttum 📖 aus Papier und Tinte (Paul Bang). – Kommentieren Sie diese Aussage.

(118) Im zusammenbrechenden römischen Staate ⚔️_{fasces} machten die öffentlichen Lasten \$\$\$ das Eigentum zu einer Strafe 🏹👤. Viele Eigentümer 👤 gaben daher ihr Eigentum freiwillig auf !! 😞😞!! und gingen lieber in die grosse Schar 🚶🚶🚶🚶 der gut lebenden 🍷🍷🍷🍷 und nicht arbeitenden Unterstützungsempfänger. Schliesslich wurde es den Eigentümern bei Todesstrafe ⚔️ verboten \$\$\$, vor ihrem Eigentum zu fliehen (Paul Bang). - Was lässt sich daraus lernen?



















(119) Die USA waren die erste Gesellschaft 🚶🚶🚶 ohne massenweise 😞😞😞😞 Armut. – Nennen Sie hierfür einige Gründe.















(120) Wenn die Steuern und Abgaben 50% des Umsatzes $\frac{1}{2}$ 😞 betragen, so bedeutet dies, dass eine positive Erfolgsrechnung +\$\$\$+ erst dann aufgemacht werden kann, wenn 50% der Betriebsleistung 🏢 für öffentliche Lasten 😞😞🏹😞😞 aufgebracht sind. – Kommentieren Sie diese Aussage.





(121) Schlimmer als Fehlleitungen 🏹 des Kapitals \$\$\$ sind Fehlleitungen 🏹 des unternehmerischen Potentials 🧪🧪🧪. – Beurteilen Sie diese Aussage.











(122) Sicherheit Π des Kapitals [\$\$\$] und hohe Zinsen i^{\max} sind ⬅️ Widersprüche. – Wieso?






(123) Je höher die Anzahl der Selbständigen, desto krisenfester 😊😊😊😊😊 ist die Volkswirtschaft. – Wieso?








(124) Nur das Gemeine , das Kranke , die Lüge  und der Irrtum  gedeihen ohne Pflege. Eine Pflanzung , die nicht  gepflegt wird, verkommt. Auch in der  Wirtschaft kann es keine Selbstentwicklung zum Guten und Gesunden  geben (Paul Bang). – Welche Schlüsse lassen sich daraus ableiten?
















(125) Man soll die Bedeutung und Wirkung von Lehrmeinungen in der  Wirtschaft nicht unterschätzen! Der Marxismus  hatte nicht auf dem Weg über die *Praxis* gesiegt, sondern  auf dem über eine *Lehre* , noch dazu eine  Falschlehre. Eines seiner gefährlichsten Mittel war nicht der Fabriksaal , sondern das Universitätskatheder  prof    or immediately:  Gehenna (Paul Bang). – Beurteilen Sie diese Aussage.




(126) "Arbeiten ist heute mehr $>$ denn je ein Arbeiten *mit*  anderen  und ein Arbeiten *für*  die anderen" (Papst Johannes Paul II, Centesimus annus, № 31). – Wieso?

















(127) Was die heutigen Volkswirtschaften von allen vorherigen Formen unterscheidet ist das Schwergewicht  auf das Geistige , auf Innovation, Entdeckung , Erfindung und  Kommunikation  (Michael Novak). – Beurteilen Sie diese Aussage.









(128) Eine Gesellschaft, in der es mehr \gg  Studierende  als Auszubildende  gibt, ist auf dem Abstieg . – Beurteilen Sie diese Aussage.














(129) Preisstabilität  ist kein Widerspruch , sondern die Voraussetzung  für das Erreichen  der Ziele des "magischen Vielecks". – Erklären Sie diese Aussage.








(130) "Wird die Wirksamkeit der Währungs- und Konjunkturpolitik durch Geld- und Kapitalzuflüsse \Rightarrow  \Rightarrow aus fremden Wirtschaftsgebieten  derart beeinträchtigt, dass das gesamtwirtschaftliche Gleichgewicht  gefährdet ist , so kann durch  Rechtsverordnung vorgeschrieben werden, dass Gebietsansässige  einen bestimmten Vom-Hundert-Satz $\frac{1}{n}$ der Verbindlichkeiten aus den von ihnen unmittelbar oder mittelbar bei Gebietsfremden aufgenommenen Darlehen  oder sonstigen Krediten während eines bestimmten Zeitraums ... zinslos  auf einem Konto bei der Deutschen Bundesbank in Deutscher Mark zu halten haben (Depotpflicht)." – Beurteilen Sie diesen § 6 a des deutschen Aussenwirtschaftsgesetzes.

(131) Nach  Berechnungen der Weltbank gehörten im Jahr 2003 dem Schattenwirtschaft-Sektor (extralegal sector) in Peru an: 90 Prozent der  industriellen Klein- und Mittelbetriebe, 85 Prozent des städtischen  Transportgewerbes in der Hauptstadt Lima, 60 Prozent der Fischereiflotte (beinebens einer der grössten der Welt!) und ebenfalls 60 Prozent der Lebensmittelgeschäfte. – Erklären Sie mögliche Gründe.

(132) Eine zusätzliche fiskalische Belastung  der Energie  in Deutschland ist ein sehr geeignetes Mittel, die Standortstruktur  weltweit zu verbessern . Denn im Produktionsprozess besonders auf Wärmebehandlung angewiesene Branchen (wie etwa die Metallverarbeitung  und die Glasindustrie) werden endlich ihre Standorte verlegen , und damit wird weniger schädlicher  Rauch in die schöne  deutsche Heimat   abgegeben. – Dienstleistungsbetriebe wie das Hotelgewerbe können die bisherigen wärmeverwöhnten  Gäste auf der sonnigen  Iberischen Halbinsel bedienen, und die Häuser im  nassen  und kalten   Deutschland, etwa der Pilzzucht, nutzbringend zuführen. – Beurteilen Sie diese Aussage.

(133) Das bilaterale  Kollektiv-Monopol  auf dem deutschen Arbeitsmarkt gilt es, gesetzlich  zu verbieten. Die Lohnbildung muss grundsätzlich der betriebspezifischen  Grenzproduktivität der Arbeit $\partial_m \div \partial l$ Rechnung tragen. Das heisst, dass Lohnabschlüsse  nur in Regionen und Unternehmen stattfinden dürfen. Anders ist nämlich eine arbeitsplatzschaffende  Flexibilität nach oben  und nach  unten nicht zu erreichen. – Beurteilen Sie diese Aussage.

(134) Um 1890 hatten die vier grossen deutschen Teerfarbenfabriken, nämlich ① **Badische Anilin- & Soda-Fabrik** in Ludwigshafen am Rhein, ② **Aktien-Gesellschaft für Anilinfarben** in Berlin  , ③ **Meister Lucius & Brüning** (später: Farbwerke Hoechst AG, 1999 nach Fusion mit Rhône-Poulenc: Aventis) in Frankfurt-Höchst und ④ **Leopold Cassella & Co.** (heute: Casella-Riedel) in Frankfurt-Mainkur die letzten Krapp- und Waidbauern  zum Aufgeben  gezwungen; ein jahrhundertaltes Gewerbe verschwand    . — Durch eine  Sondersteuer auf Anilinfarben hätte man diesen Einkommensstrom der notleidenden Landwirtschaft     erhalten können. – Beurteilen Sie diese Meinung.

(135) Die  Seefischereizollordnung vom 17. Februar 1906 befreite  die Fangergebnisse *deutscher* Fischer vom Zoll ; *ausländischer* Fisch  war  nach Tarif  zu verzollen . – Beurteilen Sie diese Massnahme.

(136) Nach dem deutschen §§§ Steuerfluchtergänzungsgesetz vom 24. Juli 1919 wurde auch bei nur vorübergehendem 1... Aufenthalt eines deutschen Staatsbürgers im Ausland eine Sicherheitsleistung \$\$\$ verlangt. Eine Ausreise ohne Sicherheitsbescheid des zuständigen Finanzamtes war nicht erlaubt. – Beurteilen Sie diese Massnahme.

(137) Durch Erlass §§§ vom 25. Juni 1921 riet die preussische Regierung den Gemeinden von der Erhebung einer Dienstbotensteuer (Bedientensteuer) nach englischem und niederländischem Vorbild ab. – Was spricht gegen diese Steuer?

(138) Durch (mehrfach novelliertes) Gesetz §§§ wurde 1822 in Preussen ein staatliches Bernsteinregal errichtet. Die unbefugte Gewinnung und den freien Marktverkehr von Bernstein stellte man unter schwere Strafe. – Beurteilen Sie diese Massnahme.

(139) Durch §§§ Gesetz vom 3. September 1921 wurden die Gemeinden in Preussen ermächtigt, eine Ankündigungssteuer (Plakatsteuer) nach Massgabe der dafür benutzten Fläche in qm zu erheben. Damit sollte der "Verschandelung durch Reklame" Einhalt geboten werden. – Beurteilen Sie diese Massnahme.

(140) Die Reichsländer Baden und Württemberg forderten 1899 von der Reichsregierung in Berlin sofortige Schritte gegen die sog. "Amerika-Uhren" (fabrikmässig auf mechanischem Wege hergestellt) und Hilfen für die (grösstenteils handgearbeiteten) Tafeluhren und Regulatoren. – ① Welche Massnahmen wären möglich gewesen? ② Wie ist ihr Erfolg zu beurteilen?

(141) Für das Deutsche Reich wurde 1923 ein Reichs-Sparkommissar eingesetzt, um bei der Verbilligung der Verwaltung beratend mitzuwirken. – Beurteilen Sie diese Massnahme.

(142) Im **§§§ Branntweinmonopolgesetz** vom 8. April 1922 **⌘** wurde eine hohe Abgabe **\$\$\$** für im **☐** Inland erzeugten **🏭** oder **🚚** **→** eingeführten *Essig* festgeschrieben. — In den folgenden Jahren kauften die Konservenfabriken den Bauern keine Gurken mehr ab **😞**; die Zahl **→**importierter **🥫🥫🥫** Sauerkonserven stieg **▲▲▲▲** gewaltig an. — Beurteilen Sie diese Entwicklung.

(143) Lohnsteigerungen ohne gleichwertige **↘** Kostenverminderung bedeutet Kaufkraftschwächung im Masstab der **↗** Einkommenserhöhung. — Wieso?

(144) Der 27jährige *Frank Winfield Woolworth* **🚩** eröffnete 1879 in Lancaster (Pennsylvania) ein Ladengeschäft, in dem jede Ware 5 oder 10 Cent kostete. Bei seinem **†** Tod 1919 war er einer der **💰** reichsten Männer der **🌐** Welt. — Erklären Sie diesen Erfolg!

(145) In den USA entstanden zwischen 1970 und 2001 fast 46 Mio (!!) neue Arbeitsplätze **😊**, derweil in Europa Arbeitsplätze verloren **😞😞😞** gingen. — Nennen Sie Gründe für diese gegenläufige Entwicklung.

(146) Von den fast 25 000 (!!) "neuen" **🌱**, von Mitte des Jahres 1997 bis Mitte des Jahres 2000 in der Nahrungs- und Genussmittelindustrie **🍷🍷** Europas plazierten Produkten setzten sich bloss knapp über 2 Prozent durch **👉** ("Renner"); rund 90 Prozent waren bereits innert zweier Jahre nicht mehr im Markt **😞😞😞** ("Penner"). — Nennen Sie Gründe für diese hohe **$\frac{1}{60}$** Misserfolgsquote.

(147) Bis 1914 gab es in Österreich **😊😊😊** eine *Schecksteuer* und bis 1992 in Deutschland eine *Wechselsteuer*. Besteuerungsgrundlage **§§§** war in beiden Fällen die jeweils ausgestellte **\$\$\$** Summe. — Beurteilen Sie diese Steuer.

(148) Das deutsche *Besoldungssperrgesetz* vom 21. Dezember 1920 **§§§** schrieb vor, dass die Dienstbezüge **\$\$\$** der Beamten in den Ländern und Gemeinden nicht **≤** über der Besoldung **\$\$\$** der gleichzubewertenden Reichs-Beamten liegen dürfe. — Beurteilen Sie diese Massnahme.

(149) In vielen Staaten des Altertums und der Neuzeit (Österreich 😊😊😊, Italien 😊😊😊, seit 1656 Preussen 🇩🇪) bestand ein \$\$\$ staatliches **NaCl Salzmonopol**. – Beurteilen Sie dieses.

(150) Als die Nachfrage nach Kupfer **Cu** zurückging 📉, bewirkte die englische Kupferindustrie 1761 einen Erlass 📜 der Admiralität (oberste Behörde für das Flottenwesen). Danach waren \$\$\$ alle hölzernen Schiffsteile 🚢 durch Kupferblech seefest bzw. feuerfest 🔥 zu machen. – Beurteilen Sie diese Massnahme.

(151) Das nördliche Siegerland 🇩🇪 produzierte 1815 jährlich ungefähr 15 000 Holzlöffel in 🏠 Heimarbeit. Sie wurden (🚢 über Köln) weltweit 🌐 verkauft. Als das Land in diesem Jahr zu Preussen 🇩🇪 kam, konnten bald ungehindert Blechlöffel aus den Walzen im Bergischen Land 😊 verkauft werden. Sie drängten die Holzlöffel zurück. Dieser Substitutionsprozess hätte durch kluge Wirtschaftspolitik 🧠 verhindert werden können. – Beurteilen Sie diese Aussage.

(152) In England ging *Seeauswurf* (= besitzlos gewordene Gegenstände, die vom Meer an den 🚢 Strand geworfen werden) unmittelbar an den (die) Finder 🧑🏻🔍️. In Deutschland \$\$\$ verwalteten 🏠 Standbehörden (Strandämter, Strandvögte) den Seeauswurf 😊 nach Gesetz (zuletzt Reichsgesetz vom 30. Dezember 1901). – Beurteilen Sie beide Verfahren.

(153) In den Niederlanden stellten die 🇳🇱 Ärzte fest, dass Verstauchungen und Knochenbrüche bei weitem rascher heilten als in Deutschland. Nach Einführung der Unfallversicherung in Holland glich sich das sogleich aus (*Paul Bang: Aphorismen zur Wirtschaftsweisheit*, Göttingen [Vandenhoeck & Ruprecht] 1937, S. 218). – Erklären Sie diese Tatsache.

(154) Nicht nur die 🏢 Unternehmer, sondern auch die Beschäftigten zweier Betriebe des gleichen Gewerbezweiges stehen im wirtschaftlichem 🔄 Wettbewerb, also im Leistungskampf. Dieser wird 🚫 gehemmt – wenn nicht gar 🚫 verhindert –, wenn den Betrieben gleiche Arbeitsbedingungen und gleiche Löhne (Flächentarifvertrag!) \$\$\$ vorgeschrieben sind. – Erklären Sie den Zusammenhang.

(155) Die Grundlage der \$\$\$ *Biersteuer* bildete in Deutschland die erzeugte Menge in 1000 Liter, in den USA die Fassgrösse 🍺, in England, Frankreich 😊 😊 und Italien

☺☺☺ die Stammwürze, in Belgien und den Niederlande ☺☺☺ der Rauminhalt der Braugefässe (Maischbottichsteuer). – Beurteilen Sie diese Erhebungsgrößen

(156) Anfang September 1999 zählten die Marktforscher auf dem deutschen ☺ Binnenmarkt 32 Sorten von 🐾 Hundefutter. – Sind diese Produkte Substitute (eine Ware kann durch die andere ersetzt werden; oder genauer: bei Preiserhöhung um 1% verliert der jeweilige Hersteller mindestens auch 1% an Absatz)?




(157) Zwischen Jänner 1999 und Jänner 2000 flossen nach der Statistik der EZB II im ☺ Monatsdurchschnitt 4,5 Mrd USD aus dem €€€€Euroraum → in den amerikanischen Kapitalmarkt. – Nennen Sie Gründe für diesen capital outflow.
















(158) Nach dem §§§ Wertpapier-Verkaufsprospektgesetz sind in Deutschland Anbieter von jederart Wertpapieren (auch von sog. "Private Placements"), die nicht an einer inländischen Börse zugelassen sind, verpflichtet, vor dem erstmaligen öffentlichen Angebot (auch via 🖨 Internet) einen 📄 Verkaufsprospekt zu veröffentlichen. Die Anforderungen an den Inhalt der Angaben regelt das Gesetz; die Überwachung liegt bei den Aufsichtsbehörden. – Beurteilen Sie diese Vorschrift






(159) Nach § 16 der §§§ Reichskommunal-Abgabenordnung von 1912 durften in Deutschland die Gemeinden eine Hundesteuer 🐾 und eine *Katzensteuer* einführen. – Warum kam es bis heute kaum zur Katzensteuer?


(160) Im Februar 1860 schlossen England und Frankreich ☺☺☺ einen 📄 Handelsvertrag ab, in dem – ① alle 🚫 Einfuhrverbote 🌿 aufgehoben, – ② die Zölle für Fertigwaren erheblich gesenkt📉 und – ③ für Rohstoffe 📧 ganz abgeschafft wurden. — An die 400 französische Industrielle baten 📧 *Kaiser Napoléon III* um eine Audienz, um ihm in 🕒 letzter Minute die grossen Gefahren ☹☹☹ klarzumachen, die Frankreich aus dem §§§ Vertrag erwachsen. Dieser 🙅 weigerte sich, die 🗣🗣🗣 Delegation zu empfangen, mit der 🗣 Bemerkung: "Der Preis ist König!". – Beurteilen Sie diese Haltung.



(161) Im Jahr 1747 entdeckte der deutsche Apotheker *Andreas Markgraf* Saccharose (Zucker, $C_{12}H_{22}O_{11}$) in 🍷 Rüben. Nach ✓ erfolgreichen Zuchtversuchen gelang in Deutschland ab 1802 die ☺ Zuckergewinnung auf 🏭 industrieller Basis. Als die Pro-



duktion um 1840 den Inlandsbedarf  überschritt, begünstigte **+++** man durch **\$\$\$** Exportprämien die Ausfuhr  von Rübenzucker. Abnehmer des Dumpingzuckers (dumping = the sale of a product on a foreign market at a price below that at which it is being sold on the domestic market) waren vor allem Dänemark und England. – Welche  Folgen könnte diese Ausfuhrpolitik des Rohstoffes Zucker für Deutschland gehabt haben?


(162) In unserer Gesellschaft heute gibt es  % viel zu viele  Alte, welche die junge Generation  bloss unnötig belasten . Daher gilt es, schleunigst über eine $-\Delta x = \frac{1}{n}$ Minderung  dieser Altenlast nachzudenken und damit \rightarrow über ein  sozialverträgliches Ableben     Gehenna dieser  Mitbürger. Bis entsprechende **\$\$\$** Entscheidungen gefallen sind, müssen sämtliche Leistungen des Gesundheits-Systems    an diesen Personenkreis **>60** eingestellt  werden. – Beurteilen Sie diese Vorschläge.

(163) Kurtaxen sind **\$\$\$** Gebühren, die Orte mit Heilstätten für ihre besonderen Leistungen an die Besucher (wie  Parkanlagen,  Konzerthallen,  Orchester) erheben. Nach diesem Vorbild sollten auch  Universitäts-Städte und Gesamthochschul-Dörfer  eine Gebühr für die Studierenden, progressiv steigend **++++** mit der Semesterzahl, einführen. – Beurteilen Sie diesen Vorschlag.

(164) Unter Zugrundelegung eines von der jeweiligen Gemeinde festzusetzenden Hebesatzes % wurde bis 1980 eine  Lohnsummensteuer erhoben. Ermittelt wurde diese durch **+++** Addition sämtlicher ausbezahlten **\$\$\$** Löhne und Gehälter eines Unternehmens. – Beurteilen Sie diese Abgabe.

(165) Anders als in anderen Staaten (wie USA oder Italien ), hat man in Deutschland die öffentliche Auslegung von  Steuerlisten bis anhin noch nicht eingeführt. – Was spricht dafür, was dagegen?

(166) "Es ist ein seltsamer Aberglaube, dass ein Baum  dann mehr Früchte **+Δx** trage, wenn man ihm mehrere Miteigentümer  zuweise" (Paul Bang, deutscher Wirtschaftspolitiker). – Beurteilen Sie diese Aussage.

(167) Meistbegünstigungsklausel (most favoured-nation clause) bedeutet bei zwischenstaatlichen **\$\$\$** Handelsverträgen die automatische Teilnahme  des Vertrags-

partners an allen +++ Vorteilen, die anderen Staaten ☐...☐ bisher oder ☐...☐ in Zukunft zugestanden werden. – Worin liegen die Vorteile?

(168) Im Juli 2000 kostete eine Dose 🥫 Cola-Getränk 🍷 (Markenware) mit 0,33 Liter Inhalt in den Geschäften ∅ im Durchschnitt 0,25 EUR. Beim deutschen hauptstädtischen Spitzen ↓ Kulturereignis 🏳️, der 🗨️ Love-Parade in Berlin 📉, hatte man für die gleiche 🥫 Ware 2,5 EUR und mehr +++ zu zahlen. – Erklären Sie den Preisunterschied.

(169) Vermögende Unternehmer 🏰 im Römerreich ⚔️ hielten sich in der ☉ Hauptstadt Rom einen 📧 Korrespondenten. Er schrieb 📧 dem Auftraggeber politische und Handelsnachrichten (wie: Befinden einzelner Handelsbetriebe 🏠, Preise von Gütern, ein- und auslaufende Schiffe 🚢, Wechselkurse) 📢 zu. – Beurteilen Sie diesen ⓘ Informationsdienst.

(170) Wer in Deutschland ein Finanzderivat anbieten möchte, ist nach §§ 31 und 32 WpHG verpflichtet, 📄 Risikohinweise zu geben. Diese müssen ⓘ Informationen über – ① den Basiswert, – ② die wirtschaftliche Zusammenhänge und Funktionsweise der Produkte (insbesondere die Bedeutung – ① der Laufzeit für das Aufgeld, – ② die Ausübungsart, – ③ des Hebeleffektes, – ④ der Liquidität und Volatilität des Marktes und gegebenenfalls – ⑤ des Stillhalter-Risikos), – ⑥ den Ertrag, – ⑦ das Kursrisiko, – ⑧ das Währungsrisiko und – ⑨ das Bonitätsrisiko enthalten. Wird für die beabsichtigten Geschäfte die Hinterlegung von Sicherheiten (margin) verlangt, so ist der Kunde darüber und auch – ⑩ über die Art und Weise der Berechnung der Sicherheitsmarge 📄 schriftlich zu unterrichten. – Beurteilen Sie diese Vorschriften.

(171) Der erste Schritt ⓘ zu mehr sozialer "Gerechtigkeit" 🗳️ ist, dass sich der Staat 😊 aus der Wirtschaft 🏭 zurückzieht 📉; der zweite ②, dass Begünstigungen für einzelne Wirtschaftszweige 🏭 und Gesellschaftsgruppen 🧑 nach und nach 📉 abgebaut werden. – Beurteilen Sie diese Aussage.

(172) Trotz absolut sehr hohen ↕ Erdölverbrauchs 🏭🚗🚚🚛🚝🚞 in Deutschland sieht man nur verhältnismässig $\frac{1}{n}$ selten Güterzüge 🚆 oder Schiffe 🚢 und so gut wie gar keine ±0 Tankwagen 🚚 auf den Fernstrassen mit Rohöl bzw. Erdölprodukten (vor allem Benzin). – Warum?

(173) Mehr als die Hälfte $> \frac{1}{2}$ der Weltbevölkerung 🌐 hat im Jahr 2000 noch nie im Leben ein Telefon-Gespräch 📞 geführt. Angesichts dessen hören sich die Prognosen vom 🔄 Zusammenwachsen der Menschen durch die neuen Medien wie blanker Hohn 😏 an. – Beurteilen Sie diese Aussage.

(174) Wer immer in unserer 😊 fortschrittlichen Gesellschaft nicht 🧑 arbeiten will, soll es bleiben lassen: eine ihn gut versorgende \$\$\$ Grundrente sei jedem zugesichert. Finanziert werden muss dieses 🏠 "Bürgergeld" durch $+\Delta x^2$ höhere Abgaben der 🧑 Besserverdienenden. – Beurteilen Sie diesen immer wieder (und vom 🧑 wem gar!) vorgetragene Empfehlung.






(175) Im Jahre 1852 🏠 eröffnete *Aristide Boucinaut* im Herzen von 😊 Paris das erste Warenhaus (Bon Marché). Neu 🚀 waren hierbei – ① feste \cap Preise: das war den Kleinhändlern durch die 😞 Innungen (warum?) weithin 🚫 verboten, – ② offene Auslage: der Käufer 🧑 bestimmte, was er 👁 ansehen will, und er ist nicht auf das Herbeischaffen und Vorzeigen einer Ware durch den 🧑 Verkäufer angewiesen, – ③ kein \$\$\$ Kaufzwang: jeder kann das Warenhaus verlassen →, ohne einen Kauf getätigt zu haben und – ④ grosszügiger 🔄 Umtausch: bei Nichtgefallen nahm *Boucinaut* die meisten Waren ↔ gegen Erstattung des \$\$\$ Kaufpreises anstandslos zurück. – Welche Vorteile (Nachteile) brachte die hierdurch eingeleitete Entwicklung zum Warenhaus?







(176) Hauptaufgabe des modernen Staates 🏠 ist es, alle Bürger 🧑 rundum 🕒 zu versorgen und gegen die Wechselfälle ihres Lebens 🚗 🏠 🧑 even 🏠 zu versichern. – Beurteilen Sie diese Aussage.





(177) Das *Schiffsregister* ist das amtliche Verzeichnis 📄 der Kauffartei-Schiffe 🚢, welche die Nationalflagge 🏴 führen dürfen. Das entsprechende Schiffszertifikat 📄 gilt international als Seepass \$\$\$ — In den letzten 20 Jahren haben sich immer mehr deutsche Handelsschiffe aus dem deutschen Schiffsregister 🚫 austragen lassen 😞, um in das Schiffsregister anderer 🌐 Länder (wie Liberia, Honduras) zu wechseln. – Begründen sie diese Umflagung.

(178) Der Präsident der Deutschen Bundesbank, Ernst Welteke, besuchte im Frühjahr 2001 alle 16 Ministerpräsidenten 🏠 der Bundesländer. Zu seinem nicht geringen Erstaunen stiess er dabei auf die unterschiedlichsten 🧑 Meinungen hinsicht-




lich der (durch §§§ Gesetze doch eindeutig geregelten) geldpolitischen Gegebenheiten. – Kommentieren Sie diese Unkenntnis.






(179) In stark angebotsunelastischen Wirtschaftszweigen $\epsilon_{\pm p/m} = 0$ wie dem Bergbau oder auf Kaffee-Plantagen (es dauert *vier Jahre*, bis der Kaffeebaum  trägt!) ist ein Verkaufskartell  (Syndikat: Zusammenschluss aller beteiligter  Produzenten zwecks  Zentralisierung und Verstetigung  des Verkaufs) angebracht. – Beurteilen Sie diese Aussage.






(180) Der US-amerikanischen Farmer  ist in allererster Linie **1st** ein kühl  rechnender  Unternehmer . Demgegenüber fühlt sich der kontinentaleuropäische und insondere der deutsche Bauer  seiner Familie  und einer jahrhundertealten Tradition als Angehöriger der Nährstandes verpflichtet. – Was folgt daraus?.

(181) Im Jahre 1923 wurden in Deutschland eine Reihe von *Sachwertanleihen*  begeben. Der Gläubiger gab Geld  und erhielt vom Schuldner eine bestimmte Menge  an Roggen, Kohle oder Kali  zurück. – Beurteilen Sie diese Anleihen.

(182) *Mietverträge*  wurden in Preussen  durch Gesetz vom 31. Juli 1895 einer Stempelsteuer  unterworfen. – Beurteilen Sie diese Massnahme.

(183) Nach § 15 des deutschen Wertpapierhandelsgesetzes muss eine börsennotierte Aktiengesellschaft eine   "Ad-hoc-Mitteilung" abgeben, sobald neue Tatsachen vorliegen, die sich auf den  Kurs des Papiers auswirken könnten – Beurteilen sie diese Vorschrift.

(184) Die Stadt Berlin   führte am 28. März 1923 eine  *Motorbootsteuer*  ein. Steuerpflichtig  ist demnach das Halten von Wasserfahrzeugen mit eingebautem Motor, die nicht der entgeltlichen Personen- oder Güterbeförderung dienen. – Beurteilen Sie diese Massnahme.

(185) Durch Gesetz  vom 31. Dezember 1919 wurde in Deutschland das *Reichsnotopfer* eingeführt. Jeder Vermögensbesitzer  hatte zwischen 10% und 65%   seines vorhandenen Vermögens zur Abdeckung der Schulden  infolge des (verlo-

renen) ✕ Krieges von 1914 bis 1918 😞😞😞 an das Reich ➡ abzuführen. – Beurteilen Sie diese Massnahme.

(186) Während der nächsten Jahre 1...2 wird sich die Bankenlandschaft grundlegend ändern. – ① Die herkömmliche Bank (brick and mortar bank) mit ihrem Dienstleistungsangebot vor Ort (person-to-person service; high-touch service) wird ✕ verschwinden. – ② An ihre Stelle tritt eine ∞∞ Kombination von Angebot sowohl in gebäudlichen 🏢 Filialen als auch über Seiten (transactional website) im 💻 Internet (click and mortar bank). – ③ Daneben werden sich einige Banken zu reinen 💻 Internetbanken (Internet-only bank; pure play Internet bank) entwickeln. – Beurteilen sie diese Vorhersage.

(187) Mangelhafte Institutionen (im weitesten Sinne: die 📄 geschriebenen und 🖐 ungeschriebenen Regelungen für das 👤 Zusammenleben in seinem Staat) 😞😞😞 schrecken Investoren ab und 🚧 hindern die Entwicklung. – Erläutern Sie dies an Beispielen.

(188) Eine allgemein nutzbare Technologie (general purpose technology, wie die ⚡ Elektrizität oder der 💻 Computer) führt erfahrungsgemäss erst nach Jahrzehnten zu einer spürbaren +++ Verbesserung der volkswirtschaftlichen Produktivität. – Erläutern Sie das am Beispiel der elektrischen Haushaltsgeräte.

(189) In Preussen 🇩🇪 bestand von 1765 bis 1816 die sog. Salz-Konskription. Für jedes Familienmitglied und für jedes 🐄 Stück Vieh mußte eine bestimmte NaCl Salzmenge vom staatlichen Salzregal gekauft werden. – Beurteilen Sie diese Vorschrift.

(190) Die deutsche Schiffbauzollordnung vom 17. Februar 1906 befreite Rohstoffe und Gegenstände vom Zoll, die zum Bau, zur Ausbesserung oder zur Ausrüstung (etwa: Kajüt- und Küchengerät) von Seeschiffen 🚢 verwendet wurden. – Beurteilen Sie diese Ausnahmeregelung.

(191) Im Jahr 2004 sind etwa 22% der deutschen $\frac{1}{4}$ Gesamtbevölkerung unter dem 🇩🇪 20. Altersjahr. Im Jahre 2030 wird dieser Anteil auf etwa 17% gesunken $\frac{1}{5}$ sein,

während sich bis dahin die Zahl der ☹️☹️☹️ über 65-jährigen sich x^2 verdoppelt. – Welche ökonomischen Auswirkungen wird das haben?

(192) Bis zur Internationalen Meridiankonferenz 1884 (auf ihr wurde der 🌐 Erdball in das noch heute gültige Raster von 24 Zeitzonen eingeteilt) gab es eine breite Palette von Tageszeit-Festsetzungen und Datumsgrenzen. In den USA zählte man 1871 allein 🇺🇸 71 Eisenbahnzeiten. In Genf, das sowohl an das 🇫🇷 französische als auch an das 🇨🇭 schweizerische Eisenbahnnetz angeschlossen ist, gab es drei Zeiten: die Genfer Ortszeit, die Pariser Lokalzeit und die Berner Zeit; die Kirchtürme trugen daher meistens drei Uhren. In Deutschland wurde 1893 festgelegt: die §§§ gesetzliche Zeit ist die mittlere Sonnenzeit des 15. Längengrades östlich von Greenwich. – Welche ökonomischen Vorteile hatte der Übergang zur "Normalzeit"?

(193) Die Naturvölker gingen an der europäischen Technik 🛠️ zugrunde 🏠. Was ein Mensch 🧑 mit dem Steinbeil in Monaten 📅...📅 bewältigt hat, das leistete er nun mit der Fe eisernen Axt in Stunden 🕒...🕒; einige Flinten ersetzen in der Wirkung $\frac{1}{5000}$ Tausende von Pfeile und Bogen. Technikimport schadet ☹️➡️ daher einem Volk. – Beurteilen Sie diese Meinung.

(194) Um 1900 wird in Deutschland das grosstechnisch 🏭 betriebene NaHSO_3 Sulfit-Verfahren bei der Papierherstellung 🏭 eingeführt. Tausende kleine Papiermühlen ✂️ gehen daraufhin ein ☹️☹️☹️➡️. Die Reichsregierung in Berlin ☹️➡️ weigerte sich 🚫👉, den kleinen Papiermühlen zu helfen. – ① Wie hätte man diesen helfen können? – ② Welche Auswirkung hätten die einzelnen Massnahmen gehabt?

(195) Gegen Ende des 4. Jahrhunderts v. Chr. lieferte Ägypten sein Getreide so billig 🇪🇬 \$\$\$, dass der kleine Landwirt in Griechenland 🇬🇷 zugrunde ⚔️ ging 🏠☹️➡️. Tausende von Bauern wanderten in ihrer Not 🧑👨👩👪 daraufhin mit ihren Familien 🧑👨👩👪 in das Niltal aus; in der Regel als lebendige Rückfracht auf den ägyptischen Getreideschiffen 🚢. — Die griechischen Wirtschaftspolitiker 🧑👨👩👪 beurteilten übereinstimmend 🧑👨👩👪 jene Auswanderungswelle als volkswirtschaftlich sowie staatspolitisch überaus schädlich ☹️☹️☹️☹️ und sann nach Mitteln, ihr 🚫👉 zu begegnen. – Welche Gefahren sah man wohl im einzelnen? Mit Massnahmen hätte die griechische Wirtschaftspolitik ergreifen können?

(196) Die Intensivierung des Baumwoll-Anbaus 🌱🍀 in den USA sowie die ⚡🔧 Erfindung entsprechender 🏭 Maschinerie (wie – ① Spinnmaschine [*Hargreaves* 1767],


– ② Entkörnungsmaschine (*Whitney* 1794), – ③ mechanischer Webstuhl [*Cartwright* 1785]) führte dazu, dass um 1850 billige 😊 maschinengewebte Tuche 🌐 den Weltmarkt 🌐 überschwemmen. — Die industrielle Fertigung 🏭 führte weltweit zu einer grundlegenden 📉 Wandlung des bisherigen, auf 🙌 Handarbeit ausgerichteten, jahrtausendealten textilwirtschaftlichen 🔄 Systems. Allein in Deutschland wurden Tausende von Textilarbeiter (vor allem 👨👩👧👦 Weber, aber auch Färber) 😞😞😞 arbeitslos und sanken in die 💔 Armut 📉 ab. — Mit welchen Massnahmen hätten die deutschen Behörden diese Entwicklung aufhalten können?

(197) Man berechnete 📊, dass der von der Bayer AG 1986 auf den Markt 📦 gebrachte 😊 (und nach einigen 1...📅 Jahren [warum?] wieder aus dem Angebot herausgenommene ✖ 😞) Verbundwerkstoff *Polystal*TM (Glasfaser mit Kunstharz: im Ø Querschnitt eines Stückes von 0,75 cm liegen 65 000 (!!)) Einzelfasern, und dieses Stück kann bequem eine 🏋️ Last von 4 Tonnen tragen!) innert von nur 10 Jahren nahezu 100% des Stahlverbrauchs 🏭 der Kabelindustrie (Bandeisen und Flachdraht zur Armierung) substituiert hätte. — Auf dem Bausektor 🏠 wären bis über 80% der Stähle $\frac{16}{19}$ durch Polystal ersetzt worden – und dies angesichts der notleidenden 😞😞😞 deutschen Stahlindustrie! Hier wäre eine prohibitive \$\$\$ Abgabe auf Polystal nun doch wirklich ✓ gerechtfertigt gewesen. – Beurteilen Sie diese Aussage.

(198) Zu Beginn des Jahres 2004 entfielen in Deutschland (mit einer 👤👤👤👤👤 Bevölkerungszahl von etwa 83 Millionen) im Ø statistischen Durchschnitt auf 1,8 Bewohner jeweils ein 🚗 Automobil. Legt man dieses Verhältnis für 🇨🇳 China mit um die 1,3 Milliarden Bewohner in der 1...📅 Zukunft zugrunde, so rollen dort nächstens an die 720 Millionen private Personenkraftwagen. Bis anhin hat 🇨🇳 China, ebenso wie die USA und Russland, das 📄 Kyoto-Protokoll (weltweite Vereinbarung ✓ vom Dezember 1997, die Emission von Treibhausgasen nach im einzelnen festgelegten Vorgaben zu 📉 mindern) noch nicht unterschrieben. – Beurteilen Sie die Auswirkungen der Motorisierung in China.

(199) In dem Jahrzehnt zwischen 1994 und 2000 ging es 😞 mit 54 Ländern in der 🌐 Welt bergab: das Sozialprodukt pro Kopf 📉 sank. – Nennen Sie Gründe.

(200) Es ist nicht 😞 hinzunehmen, dass 🌐 weltweit Spekulanten 👤👤👤👤👤 aus dem (Halb)Dunkel 📊 heraus (und gar noch über nicht zu lokalisierende ??? Computer 🖥️ oder völlig anonyme ??? Computernetze 🌐) den Kurs des EUR beeinflussen. Daher müssen geeignete Schritte \$\$\$ unternommen 📊 werden, um das zu 🛑 verhindern. – Beurteilen Sie diese Aussage.

(201) Etwa 70 Prozent der in Deutschland lebenden  Menschen haben unterschiedlich grosse Füße, die teilweise sogar um einige Grössen voneinander abweichen. — Welche marktpolitischen Folgerungen lassen sich daraus ableiten?

Impure thoughts wake up impure feelings, lead to impure language, and make happen impure actions. These lead to feebleness both of body and mind, and to the ruin of all that is noble and pure in character.